

Урок 1. Домашняя работа № 1.

- 1 Ёжик живет в зелёном домике. Зайка в жёлтом. Нарисуй дорожку по которой пойдет Ёжик в гости к Зайке, если озеро будет всегда с правой стороны от Ёжика.



- 2 Реши примеры.

$3+2=$

$7-2=$

$4+5=$

$6-1=$

$8+2=$

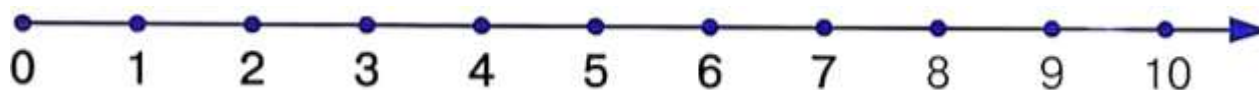
$4-3=$

$1+5=$

$7-4=$

$6+3=$

- 3 Реши примеры пользуясь числовой прямой.



$5 + \square = 8$

$7 + 3 - \square = 9$

$\square - 6 = 3$

$9 - 5 + \square = 7$

$7 + \square = 9$

$10 - 6 + \square = 7$

4

Вычеркни лишний предмет в каждом ряду.



5

Впиши пропущенные числа.

0			3			6		8	9	
10		8		6			3			0

6

Продолжи ряд, не нарушая закономерность.



7

Реши задачи. Запиши решения.

1) 3 совы сидели на дереве. Ещё 2 совы прилетели. Сколько всего сов стало на дереве? _____



2) У тебя 7 конфет и ты съел 2 из них. Сколько конфет у тебя осталось?

3) У тебя 7 надувных шаров, а у твоего друга 5 надувных шаров. На сколько у тебя шаров больше, чем у твоего друга?


8

Нарисуй по 2 новые фигуры в каждом ряду соблюдая правила:


Измени только цвет:



Измени только размер:



Измени форму и цвет:



Это дети из семьи Лэнгли. Отгадайте, кто есть кто? Соедините имя с каждым персонажем на картинке.

- Питер самый старший в семье. Он носит очки.
- Софи 8 лет. У нее коричневые волосы.
- Близнеца- самые младшие. Им по 6 лет. Их зовут Том и Бетти.

Вы всех нашли? Нет! Кто остался? Правильно. Собака по имени Макс. Макс—особенная собака. Он очень умный и знает математику.



Софи

Том

Бетти

Макс

Питер