


Урок 10.

Домашняя работа.

1

Сосчитай и раскрась.



1

2

3

4

5

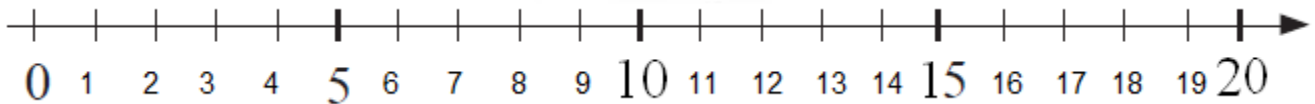
6

7

8

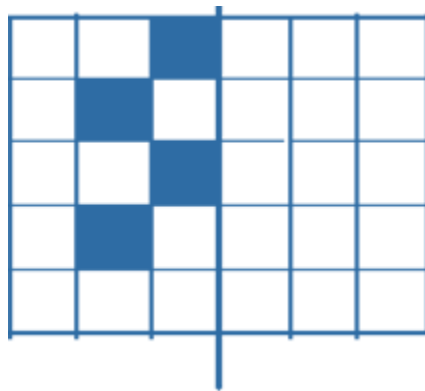
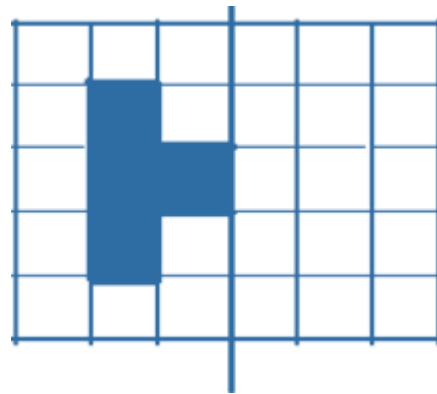
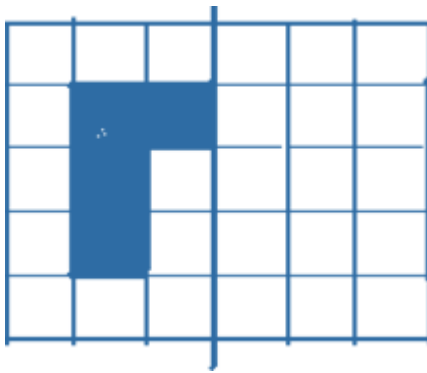
9

10



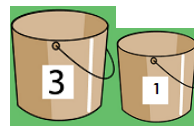
2

Нарисуй вторую половину фигуры симметрично оси.



3

Пчела Майя собрала 4 капли нектара в своё ведёрко, и оно заполнилось до краев. Вторая пчёлка решила помочь подруге донести нектар до улья. У неё было 2 ведёрка: одно вмещало 3 капли нектара, а другое - 1 каплю. Как Майе отлить из своего ведёрка ровно 2 капли мёда подруге, если ведёрки второй пчёлки пустые?



4 капли	4				
3 капли	0				
1 капля	0				

4

Реши задачи.

а) Год назад Бетти было 4 года. Сколько лет ей будет через 3 года?

б) Что легче: килограмм ваты или килограмм железа?

в) У каждой из 3 сестёр по одному брату. Сколько детей в семье?

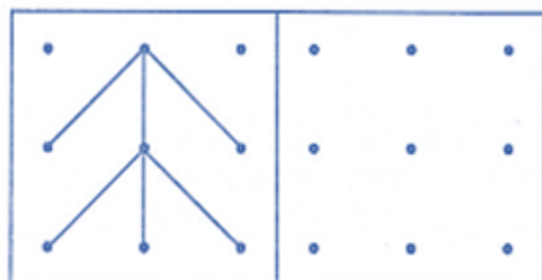
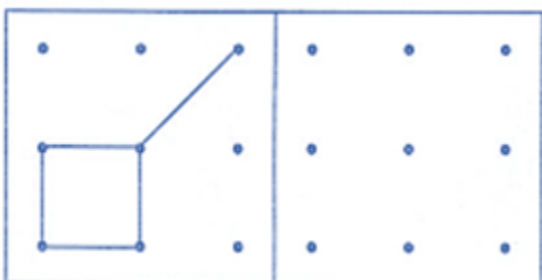
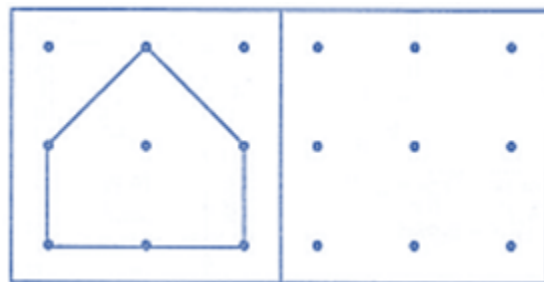
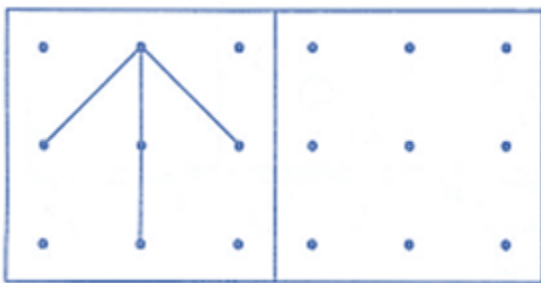
г) На ветке сидели 6 птиц. Две птицы перелетели на соседнюю ветку этого же дерева. Сколько птиц осталось на дереве?

д) В автобусе ехало 7 человек. На остановке вышло 2 человека и вошли 2. Сколько человек стало в автобусе?





5

В квадрате рядом нарисуй по точкам такую же фигуру.



6

Заполни таблицу если: $10 = \triangle + \square$

	9		7		5		3		4		10
		2		0		7		8		6	

7

Какое время показывают часы?













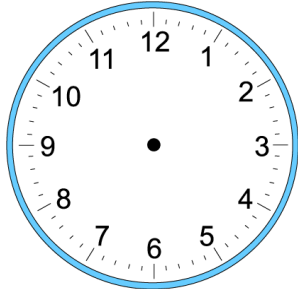




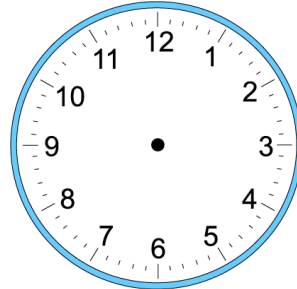


8 Том лёг спать в 9 часов вечера. Он проснулся в 7 утра. Сколько часов Том спал?

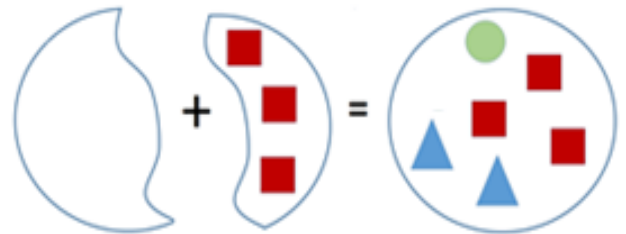
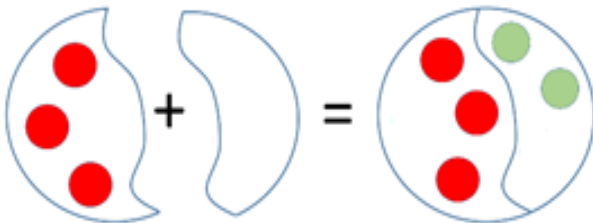
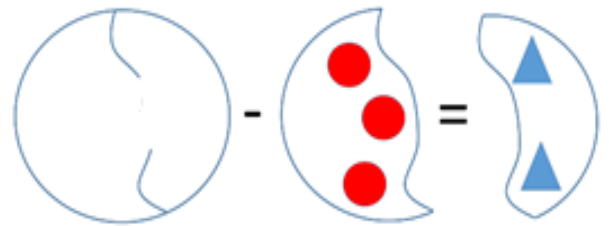
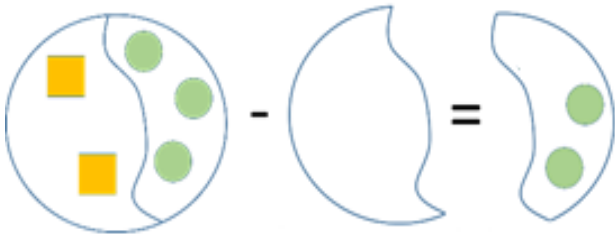
Пошел спать:



Проснулся:



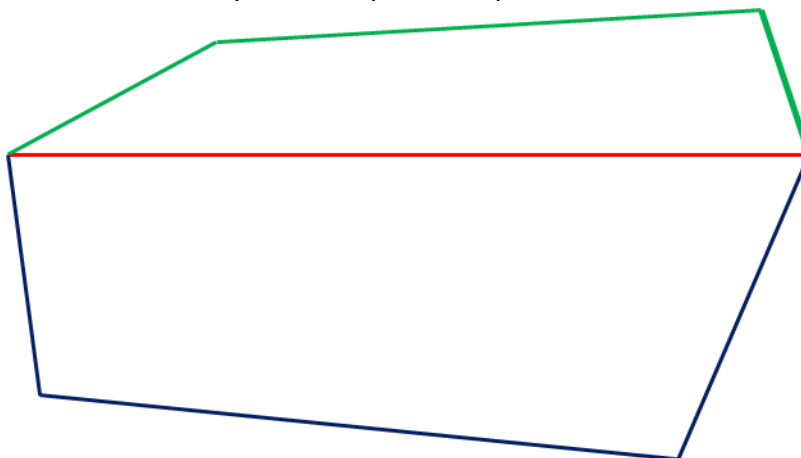
9 Как найти часть, если известно целое и вторая часть. Нарисуй недостающую часть.




10 Найди закономерность и заполни таблицу.


11

По какой дорожке надо идти ёжику, чтобы быстрее добраться до дома? Найди длину всех трёх дорожек в см.



 см

 см

 см

12

Сосчитай кубики.

