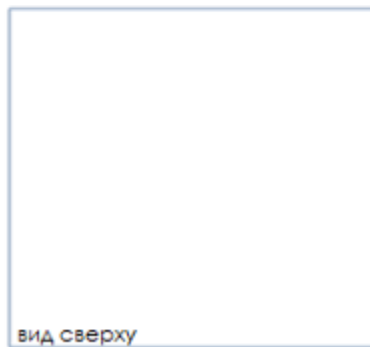
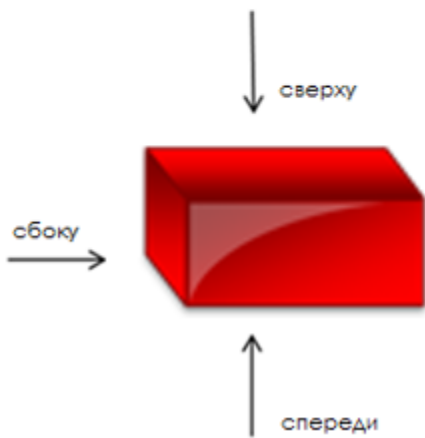
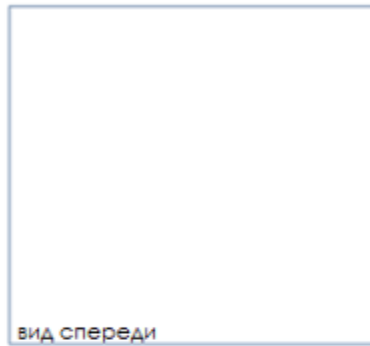
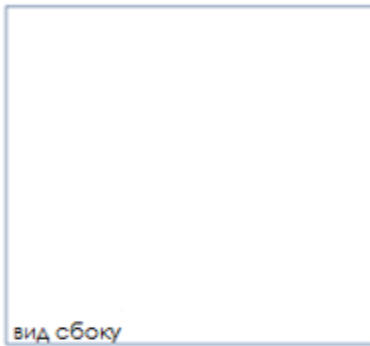


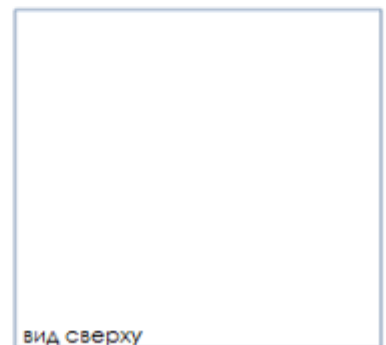
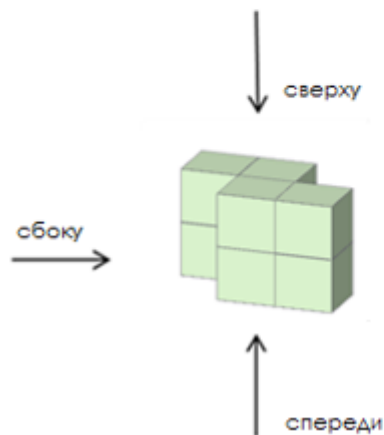
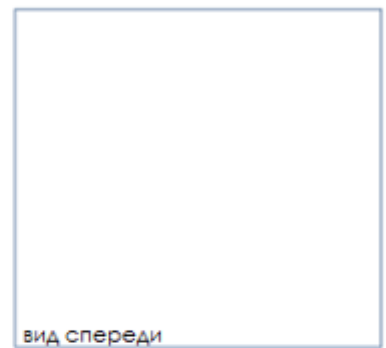
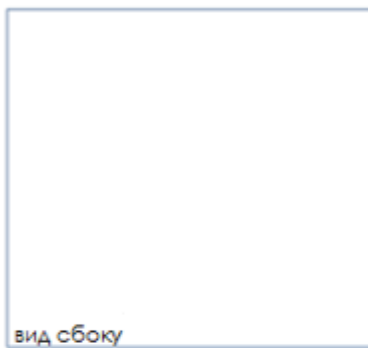
1

Нарисуй проекции этих фигур.

1.

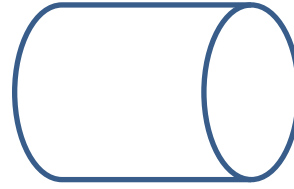
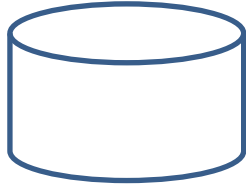


2.



2

Раскрась поверхность цилиндра снаружи синим цветом, внутри - красным.

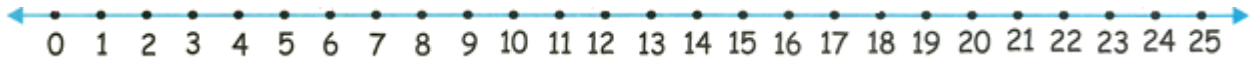


3

Выполни действия.

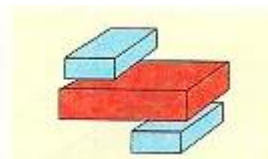
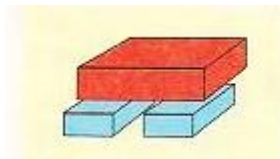
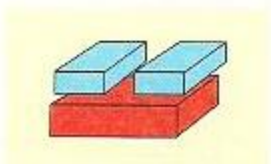
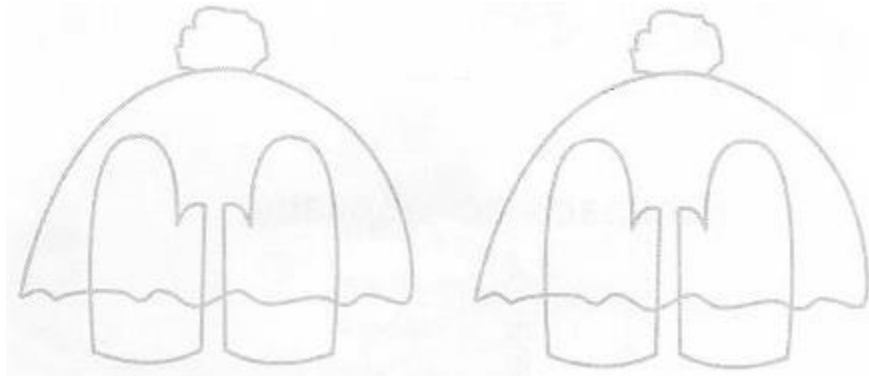

$+1$						
4 6	2 5	3 6	4 4	7 5	6 9	4 3
+ 7	+ 1 9	+ 2 5	+ 8	+ 1 7	+ 4	+ 3 8

$-1$						
7 4	5 1	3 5	4 4	6 6	2 3	9 2
- 6	- 1 8	- 7	- 2 9	- 3 7	- 5	- 4 7



4

Схемы показывают, что на чём лежит. Раскрась по схемам, начиная с верхнего предмета.



5

Заполни пустые клеточки.

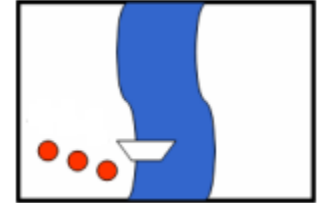
+	9	6	8
7			
15			
12			

+	7	6	
	15		17
		11	
4			

+	20	12	2
36			
	60		
		82	

6

Как **трём мальчикам** переправиться на другой берег в одной лодке, в которую помещаются только двое мальчиков?




---



---



---

7

Найди закономерность в каждом ряду и продолжи его.

1 4 6 8 10      2 5 9 13 17 21      3 30 40 50 60      4 9 12 15 18 21      5 2 10 18 26      6 70 65 60 55      7 150 140 130 120      8 31 28 25 22 19      9 8 12 16 20      10 32 30 28 26 24

8

Бочка с мёдом весит 36 кг, а вес пустой бочки - 5кг. Сколько килограммов мёда в этой бочке?

---

Макс задумал двухзначное число, вычел из него 1 и получил однозначное число. Какое число задумал Макс?

---



Витя, Коля и Питер ездят в школу на автобусе вместе. Питер тратит на поездку 10 минут. Сколько времени они тратят на поездку в школу вместе?

---

Пока Эмили съедает 2 порции мороженого, Нина съедает 3 такие же порции. За час девочки съели 10 порций мороженого. Сколько порций за этот час съела Эмили? (Нарисуй ответ).

---



Питер и Том были на школьной ярмарке викторин и выиграли билеты, которые можно обменять на призы. Том выиграл 10 билетов. Питер выиграл на 12 билетиков больше, чем Том. Том стал просить брата: «Дай мне несколько билетиков, чтобы у меня стало столько же билетов, сколько у тебя». Питер согласился. Сколько билетиков он должен отдать брату?

---



---

9

Реши примеры.

$46 + 9 =$

$27 + 7 =$

$87 - 9 =$

$47 - 9 =$

$40 + 57 =$

$54 + 7 =$

$62 - 12 =$

$43 - 6 =$

$28 + 5 =$

$53 + 16 =$

$67 - 8 =$

$88 - 9 =$

10

Найди X. Сделай проверку.

$x + 44 = 86$

$32 + x = 95$

$23 - x = 8$

$35 - x = 15$

$x =$

$x =$

$x =$

$x =$

$x =$

$x =$

$x =$

$x =$

Проверка:

Проверка:

Проверка:

Проверка:




11

Перед тобой меню одного из ресторанов в Нью-Йорке. Но в нём не проставлены цены. Известно только, что булочка стоит \$2.

<b>Меню</b>	<u>Ты можешь определить цены сам, зная, что:</u>
Гамбургер ..... \$	<ul style="list-style-type: none"> <li>• Гамбургер стоит столько же, сколько стоят вместе пицца и спагетти.</li> <li>• <b>4</b> булочки стоят столько же, сколько одна порция курицы.</li> <li>• Гамбургер вдвое дороже курицы.</li> <li>• Порция курицы и две булочки стоят столько же, сколько две пиццы.</li> <li>• Рыба и одна булочка стоят столько же, сколько гамбургер и 3 булочки.</li> <li>• Рис с овощами стоит вдвое дешевле рыбы.</li> </ul>
Курица ..... \$	
Рыба ..... \$	
Спагетти ..... \$	
Пицца ..... \$	
Рис с овощами ..... \$	
Булочка ..... <b>\$ 2</b>	

12

Танграмма. Разрежь квадрат на 7 частей и сложи из них «птицу».  
(вырежи части из приложения 24.12.)  
Наклей на лист бумаги.



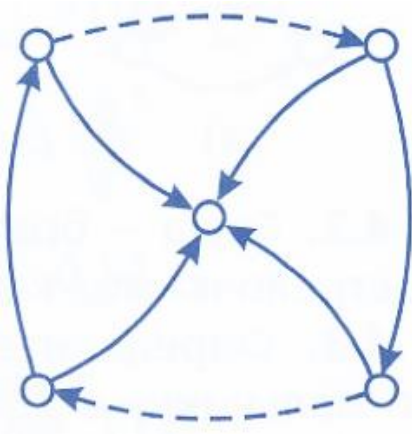
13

Игра: «Покажи мне свою сестру».

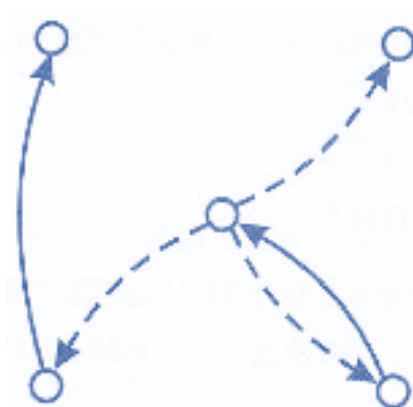


Определи, кто в данном случае брат, а кто сестра. Раскрась кружочки и дорисуй недостающие стрелочки.

а)



б)



14

Который час?



\_\_\_\_\_



\_\_\_\_\_



\_\_\_\_\_